

STATE OLYMPIAD COMBINED TEST-2024

BENGALI VERSION



Question Paper Cum Answer Sheet

Full Marks:-

100 Marks



Time:-

2 Hrs.

DATE:-...../...../ 2024

Name of Student:-.....

Class:- **Roll No:-**

Name of Centre:-.....

-:নির্দেশাবলী:-

- রোল নাম্বারটি পরিষ্কার করে লিখবে।
- প্রশ্নপত্রটি পেয়ে ভালো করে পড়ে উত্তর করবে।
- কেবলমাত্র একটি সঠিক উত্তরে (✓) চিহ্ন দিয়ে উত্তর নির্বাচন করতে হবে।
- শুধু মাত্র কালো অথবা নীল কালির বল পেন ব্যবহার করা যাবে।

Subject	Marks Obtained
English	
Gen. Science	
Mathematics	
TOTAL	

Signature of Student

Signature of Examiner/s

Signature of Invigilator/s



ENGLISH - 40

(Grammar-20)

1) Tick the correct option to complete the following sentences:

1×8=8

i) Plural form of  'Shelf' is –

- a) Shelves [] b) Shelves [] c) Shelfes [] d) None of these []

ii) The verb after 'Shila' will be-


- a) is [] b) am [] c) being [] d) are []

iii) 'It' is a boy.' – The underlined word in the sentence is a –

- a) Noun [] b) Adverb [] c) Pronoun [] d) Adjective []

iv) The past form of the verb 'sing' is –

- a) Sang [] b) Sung [] c) Shang [] d) None of these []

v) The feminine gender of the word 'cow'  is –

- a) Ox [] b) Fecow [] c) Oxen [] d) None []

vi) 'It is _____ university of Burdwan'. 'the article in the blank will be –

- a) a [] b) an [] c) the [] d) None []

vii) 'I am going to school'. The sentence is written in –

- a) Present Continuous [] b) Past [] c) Perfect [] d) Future [] Tense

viii) 'We write _____  Pen'. The preposition in the blank will be -

- a) with [] b) by [] c) to [] d) None []

2). Fill in the blanks with the correct verbs:

1x4 = 4

i) They _____ absent **yesterday**.


ii) All _____ present **today**.

iii) Babu _____ (come) just now.

iv) It _____ (rain) **today**.

3. Do as directed

2x4=8

i)  'Water' _____ kind of Noun ?

Ans. _____.

ii) What type of sentence is 'open the door please.'

Ans:- _____

iii) Add punctuation marks to the sentence & rewrite- 'how much is this pen'

Ans:- _____

iv) Write an example of 'strong verb' .



Ans: _____

(Vocabulary-10)

4) A. Choose the correct Answer :-

1x4 =4

i) The picture  is -

(a) potato

(b) papaiya

(c) gourd

(d) brinjal

(ii)

The  picture _____ ?

(a) Fruit

(b) Vegetables

(c) Pulse

(d) All of these

(iii) To sweep _____ is used .

(a) bucket

(b) broom

(c) dish

(d) bowl

(iv) The 'Vehicle' of desert' is ---

(a) Ship

(b) Dog

(c) Camel

(d) Horse

B. Fill in the blanks with the correct words :-

1x2 =2

(i) ERMAST : _____

(ii) BNAAAN : _____

C. Do as directed

2x2=4

(i) The babies of 'dog' is called ?

Ans. _____

(ii) 'The cry of lion' is called ?

Ans. _____

(Spoken Expression-10)

A) Tick the correct answer :-

1x4=4

(i) **Morning**=Good morning! **Night** = _____ ?

- (a) Sweet Night! (b) Good Night! (c) Very good Night ! (d) Night to you!

(ii) **To give permission** _____ used-

- (a) Sir, I will come (b) May I come in sir /madam?
(c) Hello may come! (d) You may go.

(iii) **'How much** = Money , **How long**= _____ ?

- (a) Distance (b) Time (c) Counting (d) All of these.

iv) **'Have a good Day!'** for = _____ ?

- (a) Evening! (b) Day!
(c) Morning! (d) All of these



B. Fill in the blanks with the correct answer :-

1x2 =2

(i) ' _____ ! This is Amal.' (to introduce)

(ii) ' _____ _____ live long!' (for wish)

C. Do as directed

2x2=4

i)



Express the time in English.

Ans. _____

(ii) **Friend: Do you have any pen?**

Me: _____ ?

1) সঠিক উত্তরটি নির্বাচন করো -

1x6=6

A) মূলের কাজ হল-

a) মাটি থেকে জল শোষণ

b) মাটিকে শক্ত করে ধরে রাখা

c) মাটি থেকে পুষ্টিদ্রব্য শোষণ

d) সবগুলি

B) টমেটো হল টমেটো গাছের -

(a) কাণ্ড

(b) মূল

(c) পাতা

(d) ফল

C) পৃথিবীর মোট জলের কত পরিমাণ বিশুদ্ধ (মিঠা) জল ?

(a) 97%

(b) 1%

(c) 50%

(d) 3%

D) জলে থাকা আর্সেনিকের উৎস হল -

(a) কলকারখানার বর্জ্য

(b) সার

(c) ফসফেট পাথর

(d) সবগুলি

E) পৃথিবীর সকল শক্তির উৎস হল -

(a) সূর্য

(b) জল

(c) বাতাস

(d) মানুষ

F) বায়ু বাহিত রোগ হয় কোন গুলির জন্য

(a) ভাইরাসের জন্য

(b) ছত্রাক

(c) ভাইরাস, ব্যাকটেরিয়া ও ছত্রাক

(d) ব্যাকটেরিয়া

2) অতি সংক্ষেপে দু-এক কথায় উত্তর দাও :

1x6=6

A) পাতায় কি থাকে যার ফলে পাতা সবুজ বর্ণের হয় ?

Ans:-

B) ভারতবর্ষের চারটি ঋতুর নাম লেখ :

Ans:-

C) বায়ু দূষণের কারণ কি ?

Ans:-

D) শক্তির বিভিন্ন উৎসগুলির নাম লেখো।

Ans:-

E) মাটির তিনটি প্রকার ভেদের নাম লেখ ।

Ans:-

F) কোন কোন মাস নিয়ে ভারতবর্ষে শীতকাল হয় ?

Ans:-

3) সংক্ষেপে নিম্নলিখিত প্রশ্নগুলির উত্তর দাও :-

2X4=8

A) জল বাহিত রোগ কি ?

Ans:-

B) বিদ্যুৎ কি ?

Ans:-



C) মেঘ কিভাবে বৃষ্টি ঘটায় ?

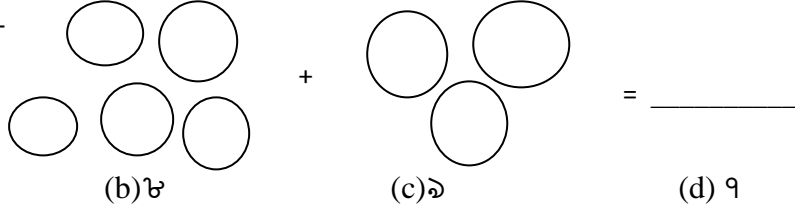
Ans:-

D) শক্তি কি ?

Ans:-

A) সঠিক উত্তরটি নির্বাচন করো :

1) যোগফল লেখো-



(a) ১০

(b) ৮

(c) ৯

(d) ৭

2) ফাঁকা ঘরে সংখ্যা লেখো :- _____ + ৬ = ৯

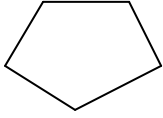
(a) ১

(b) ২

(c) ৩

(d) ৪

3)



চিত্রটিতে কয়টি বাহু আছে ?

(a) ৪টি

(b) ৫টি

(c) ৬টি

(d) ৭টি

4) ৩ টি ব্যঙের মোট কয়টি পা আছে ?

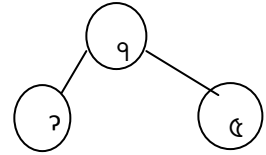
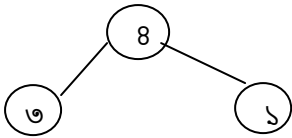
(a) ৪টি

(b) ৬টি

(c) ৮টি

(d) ১২টি

5) ফাঁকা জায়গায় সঠিক সংখ্যা লেখ -



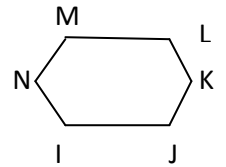
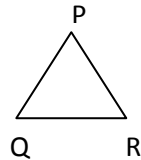
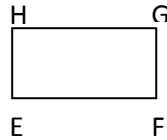
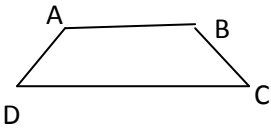
(a) ১

(b) ২

(c) ৩

(d) ৪

6) কোনটি ত্রিভুজ ?



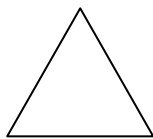
(a) EFGH

(b) PQR

(c) ABCD

(d) IJKLMN

7) এটি কোন আকৃতি ?



(a) ত্রিভুজ

(b) চোঙ

(c) গোলক

(d) বর্গক্ষেত্র

8) ১১ এর থেকে ৫ বেশী হল _____ .

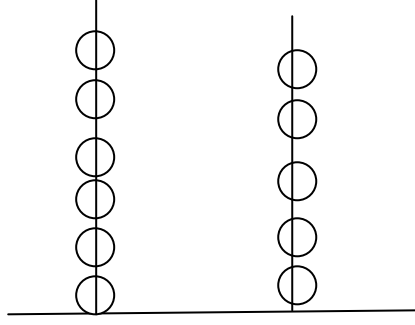
(a) ৬

(b) ৫৫

(c) ১৬

(d) ১৫

9) অ্যাবাকাশে কোন সংখ্যা দেখানো হয়েছে ?



- (a) ৬৫ (b) ৬৪ (c) ৬৩ (d) ৫৬

10) কোন ছবিতে মিঠা বসেছে তিতলি ও তুতুলের মাঝখানে ?

- a)

মিঠা	তিতলি	তুতুল
------	-------	-------

 b)

মিঠা	তুতুল	তিতলি
------	-------	-------
- c)

তিতলি	মিঠা	তুতুল
-------	------	-------

 d)

তিতলি	তুতুল	মিঠা
-------	-------	------

11) কোনটি বড় থেকে ছোটো সাজানা আছে -

- a) ১০, ১২, ১৫, ১৩ b) ১০, ৯, ৮, ৭ c) ১০, ১৬, ১৭, ১৮ d) ২০, ১৯, ১৭, ২৫

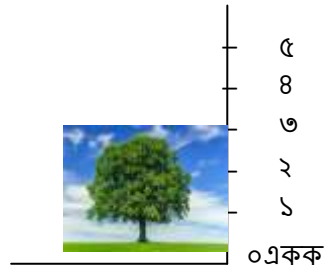
12) $২ \times ১০ + ১৮ \times ১ = ?$

- (a) ২৮ (b) ৩৮ (c) ২০৮ (d) ২১৮

13) মন্টির ২৪ টা বল ছিল তা থেকে ও বোনকে ২টা বল দিয়ে দিল। মন্টির কাছে এখন কটি বল রইল ?

- (a) ২২ টি (b) ২০ টি (c) ১৮ টি (d) ২১ টি

14) গাছটি কতটা উঁচু ?



- (a) ২ একক (b) ৩ একক (c) ৪ একক (d) ৫ একক

B) নিম্নলিখিত প্রশ্নগুলির উত্তর দাও:-

2X7=14

1) ছোটো থেকে বড় সাজাও :- ৬১, ৬৩, ৭৩, ৭১, ৬০

Ans:-

2) $৭২ = \underline{\hspace{2cm}} \times ১০ + \underline{\hspace{2cm}} \times ১$

3) জোড় সংখ্যাগুলিকে গোল কর :

২০, ২৫, ২৮, ৩১, ৩৭, ৫৯, ৬৬, ৮৮, ৮৯,

4) এগুলি বছরের কত তম মাস ?

ডিসেম্বর _____

মার্চ _____

5) শূন্যস্থানে ঠিক সংখ্যা বসাতো-

২০, ১৮, ১৬, ১৪, _____, ১০, ৮

6) বৃহত্তম ও ক্ষুদ্রতম খুঁজে বের কর :- ২৮, ৭৫, ৫৬, ১৮, ৮১

বৃহত্তম _____

ক্ষুদ্রতম _____

7) $২৬ + ০ =$ _____ ?

C) নিম্নলিখিত প্রশ্নগুলির উত্তর দাও:-

3×4=12

1) সংখ্যায় লেখো : a) পাঁচ হাজার পাঁচ শত ষাট ।

কথায় লেখো : b) ৬৭২৪৯০

2) ৪৫৬৭ সংখ্যাটিতে ৪ ও ৬ এর স্থানীয় মান কত ?

3) যদি ৬০ মিনিট = ১ ঘণ্টা হয়, তবে ১ দিন = _____ মিনিট ।

4) $৭৭ \times ১১ - ৬ \times ৪ + ৩$

For Rough Use

