

STATE OLYMPIAD COMBINED TEST-2024

BENGALI VERSION



Question Paper Cum Answer Sheet

Full Marks:-

100 Marks

CLASS

5

Time:-

2 Hrs.

DATE:-...../...../ 2024

Name of Student:-.....

Class:- **Roll No:-**

Name of Centre:-.....

-:নির্দেশাবলী:-

- রোল নাম্বারটি পরিষ্কার করে লিখবে।
- প্রশ্নপত্রটি পেয়ে ভালো করে পড়ে উত্তর করবে।
- কেবলমাত্র একটি সঠিক উত্তরে (✓) চিহ্ন দিয়ে উত্তর নির্বাচন করতে হবে।
- শুধু মাত্র কালো অথবা নীল কালির বল পেন ব্যবহার করা যাবে।

Subject	Marks Obtained
English	
Gen. Science	
Mathematics	
TOTAL	

Signature of Student

Signature of Examiner/s

Signature of Invigilator/s



ENGLISH – 40
(Grammar-20)

1) Tick the correct option to complete the following answers:-

1×8 = 8

i) ‘ _____ French fought hard.’

- (a) A (b) An (c) The (d) On

ii)) The plural number of the word “**Dynamo**” is

- (a) Dynamaes (b) Dynamos (c) Dynamoss (d) Dynamoess

iii) The word ‘**somebody**’ is a –

- (a) Personal (b) Relative (c) Indefinite (d) Reciprocal Pronoun

iv) The feminine gender of the word “**Heir**” is –

- (a) Heirs (b) Heires (c) Heirees (d) Heiress

v) The word “**wisdom**” is used as - Noun

- (a) Proper (b) Abstract (c) Common (d) Collective

vi)) Select the suitable **Modal Auxiliary** to fill in the blank in the following sentence:-

“**All the citizens _____ love their country.**”

- (a) Can (b) Shall (c) May (d) Should

vii) The word “**Outside**” is an –

- a) Adverb of place b) Adverb of time
c) Adverb of Frequency d) Adverb of Manner

viii) The **preposition** in the blank will be:- “ **Santu, listen _____ me .**”

- (a) on (b) by (c) in (d) to

2. A) Fill in the blanks with correct answer of the followings:-

1×4=4

Use “**much , more, many**” to fill in the following blanks :

a) ‘I don’t have _____ **money** to buy this house .’

b) ‘ _____ **years have passed** since I met you last.’

c) ‘He is _____ **intelligent than** me.’

d) It is **too** _____.’

B) Do as directed:-

2×4=8

ii) **Punctuate** the following sentence :- ‘whats the matter’

Ans:- _____

iii) ‘He is unable to see.’ (Rewrite with Modal Auxiliary Verb)

Ans:- _____

iv) ‘You will do the work .’(Turn it into an interrogative sentence)

Ans:- _____

(Comprehension-10)

6. Read the following passage carefully and answer the question that follow.

Long long ago there was a deep forest in Orissa near the sea, and in the middle of the forest there was a hill. The local people called it “Nilachal” or the Blue Hill . The sacred river Rohini flowed by the western side of the hill. On the top of the hill there was a pagoda tree (Kalpadruma) and under the tree was the image of lord Vishnu in the form of a blue stone . At that time Indradyumna was the king of Avanti in his own eyes.

i) State whether the following statements are True or False. 2×2=4

a) Rohini flowed towards the east of the hill.

b) Avanti was once ruled by Indradyumna.

ii) Complete the following sentences with information : 1×2=2

a) Nilachal was a _____

b) Under Pagoda tree there was _____

iii) Answer the following questions in brief : 2×2=4

a) What was on the top of the hill ?

Ans:- _____

b) Who was Indradyumna ?

Ans:- _____

(Writing & Spoken Expression-10)

3. A) Tick the correct option to complete the sentences: 1×4=4

i) How would you reply when someone says “Good night to you!” ?

- a) Thanks! b) It’s ok ! c) Good Night ! d) Welcome!

ii) How would you **refuse** when **someone offering** you something ?

- a) No ! b) No thanks ! c) Yes! d) Surely I !

iii) How would you ask time to someone ?

a) Time ?

b) Tell the time

c) May I know the time , please ?

d) What's the time by your watch now ?

iv)



Time: 1:15 pm

To express it what would you say?

a) It's 1:15

b) It is one Past Fifteen

c) It is one past quarter

d) All of these

B) Fill in the blanks with the correct answers :-

1×1=2

i) **Hurrah!**= Joy, _____ for sorrow?

ii) **Sure >> surely!, Certain>>** _____ ?

C) Answer the following questions:

2×2=4

i) Suppose you want to help someone. How would you express it ?

Ans:- _____

ii) "Let us play now." What does the expression mean?

Ans:- _____

GENERAL SCIENCE -20

1) সঠিক উত্তরটি নির্বাচন করো:-

1X6=6

i) একটি আঁশ বিহীন মাছ হলো-

a) ইলিশ

b) কাতলা

c) পাবদা

d) রুই

ii) মাটির একটি অস্বাভাবিক উপাদান হলো-

a) পচাপাতা

b) বালির কণা

c) পলিথিন

d) কাদা কণা

iii) পরিবেশ দিবস পালিত হয় -

a) ৫ই সেপ্টেম্বর

b) ৫ই জুন

c) ৫ই মার্চ

d) ৫ই আগস্ট

iv) দিনে জোয়ার ভাটা হয়-

a) ২ বার

b) ৩বার

c) ৪ বার

d) ৫ বার

v) পশ্চিমবঙ্গের প্রধান খনিজ সম্পদ -

a) কয়লা

b) আকরিক লোহা

c) বক্সাইট

d) তামা

vi)কোনটি শিশুদের মৌলিক অধিকার -

- a)বেঁচে থাকা b)শিক্ষালাভ করা c)নিজের পরিচয় জানা d) সবকটি

2) অতি সংক্ষেপে দু-এক কথায় প্রশ্নগুলির উত্তর দাও :-

1x6=6

i) মাটির অস্বাভাবিক উপাদান গুলি কী কী ?

Ans:-

ii)কোন জেলায় বেড়াতে গেলে অজয় নদ দেখতে পাবে ?

Ans:-

iii) পশ্চিমবঙ্গের কোন দিকে মালভূমি অঞ্চলটি অবস্থিত ?

Ans:-

iv) সূর্য পৃথিবীর তুলনায় কত গুণ বড়ো ?

Ans:-

v) লেব্স আমাদের কোন কাজে লাগে ?

Ans:-

vi) ORS কথার পুরো অর্থ কী ?

Ans:-

3) নিম্নলিখিত প্রশ্নগুলির উত্তর দাও: -

2x4=8

i) হারভেস্টার কী ?

Ans:-

ii) সম্পদ কাকে বলে ?

Ans:-

iii) জোয়ার ভাটা কি কারণে ঘটে ?

Ans:-

iv) দুটি অবলুপ্ত পাখির নাম লেখ ।

Ans:-

MATHEMATICS-40

A) সঠিক উত্তরটি নির্বাচন করো:-

1×14=14

i) ৪৮৯, ৫৪১, ৬৫৪, ৯৫৩, ৭৮৩- এই সংখ্যাগুলির প্রত্যেকটির প্রথম দ্বিতীয় অঙ্ক পরস্পর স্থান বিনিময় করলে, সর্ববৃহৎ সংখ্যাটি হবে -

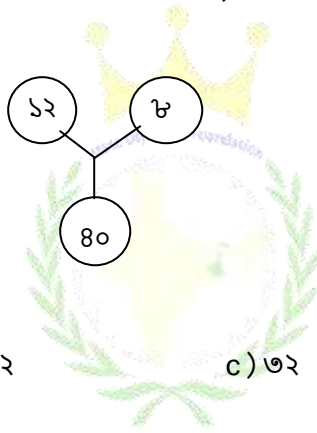
a) ৯৫৩

b) ৭৮৩

c) ৪৮৯

d) ৬৫৪

ii) সঠিক সংখ্যা নির্ণয় কর -



a) ৩০

b) ৭২

c) ৩২

d) ৪৪

iii) $৫৫২৮৪৭ = ৫০০০০০ + \underline{\hspace{2cm}} + ২০০০ + ৮০০ + ৪০ + ৭$

a) ৫০০০০

b) ৫০০০

c) ২৫০০০

d) ২৫৪৭

iv) কোন সংখ্যাটি সমগোত্রীয় নয় ?

a) ৭

b) ৯

c) ৪

d) ৬

v) ডানদিক থেকে সতেরো নম্বর চিহ্নের পরবর্তী নবম চিহ্ন হল -

M4ET%J9IB@U8N#FIV7x24H3Y5S6K

a) A

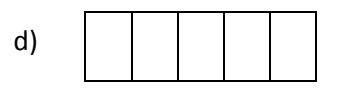
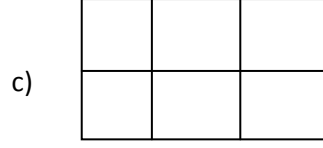
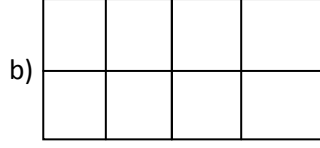
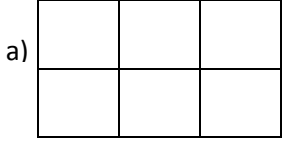
b) %

c) 4

d) Y

vi) কোন চিত্রটির ক্ষেত্রফল ৮ বর্গ একক এবং পরিসীমা ১২ একক ? (প্রতিটি ছোটো বর্গক্ষেত্রের

একেকটি বাহু ১ একক)



vii) _____ এর পরিসীমা = ২ (দৈর্ঘ্য+প্রস্থ)

a) বর্গক্ষেত্র

b) আয়তক্ষেত্র

c) ট্রাপিজিয়াম

d) রম্বস

viii) ছবিটিতে কত অংশ x চিহ্ন আছে ?

+	-	x	÷	+	-
x	÷	+	-	x	÷
+	-	x	÷	+	-
x	÷	+	-	x	÷

a) $\frac{1}{4}$

b) $\frac{1}{3}$

c) $\frac{1}{5}$

d) $\frac{1}{2}$

ix) যদি সাদাকে নীল বলা হয় , নীলকে লাল বলা হয় , লালকে হলুদ বলা হয় , হলুদকে সবুজ বলা হয়, সবুজকে কালো বলা হয় তবে মানুষের রক্তের রং কী ?

a) লাল

b) হলুদ

c) সবুজ

d) নীল

x) ব্যাস = ২ x _____

a) পরিধি

b) জ্যা

c) ব্যাসার্ধ

d) ক্ষেত্রফল

xi) ফাঁকা জায়গায় উপযুক্ত সংখ্যা বসায় ১ , ৪, ৯, _____ , ২৫

a) ১২

b) ১৫

c) ১৬

d) ১৮

xii) বিবেক ৩ ঘন্টার জন্য সাইকেল ভাড়া নেয়, তাকে কত টাকা দিতে হবে ?

সাইকেল ভাড়া : প্রথম ঘন্টা:-৭ টাকা , পরবর্তী প্রতি আধ ঘন্টা: ৩ টাকা

a) ১৩

b) ১৯

c) ২২

d) ৩০

xiii) একটি বাস্কে ২০ মিলিগ্রামের মোট ৩,০০,০০০ টি ট্যাবলেট আছে। ঐ বাস্কের সমস্ত ট্যাবলেটের মোট ওজন কিলোগ্রাম এককে কত হবে ?

a) ৬

b) ৬০

c) ৬.৬

d) ৬০৬

xiv) ঘড়িতে ২টা বাজলে ঘন্টা ও মিনিটের কাঁটার মধ্যবর্তী কোণ -

a) ৩০°

b) ৪৫°

c) ৬০°

d) ৪৮°

B) নিম্নলিখিত প্রশ্নগুলির উত্তর দাও :-

2X7=14

i) কথায় লেখ - ১৩৭২১১

Ans:-

ii) কোনটি প্রতিসম নয় ? A F C E

Ans:-

iii) শূন্যস্থান পূরণ কর -

$$০.২৫ \times ১২ = ০.২৫ \times ৩ + ০.২৫ \times ৩ + ০.২৫ \times \underline{\hspace{2cm}}$$

iv) একজন ছাত্র তিনটি পরীক্ষায় ৪,৫ ও ৯ নম্বর পেয়েছে। তার প্রাপ্ত নম্বরের গড় কত ?

Ans:-

v) ৬০০ এর ১২.৫% = _____ ?

vi) একটি ত্রিভুজের দুটি সমকোণ থাকতে পারে ? যুক্তি দাও।

Ans:-

vii) ৪৫% কে লঘিষ্ঠ আকারের ভগ্নাংশে পরিণত করো।

Ans:-

C) নিম্নলিখিত প্রশ্নগুলির উত্তর দাও :-

3X4=12

i) ৪০ থেকে ৫০ এর মধ্যবর্তী অযুগ্ম সংখ্যাগুলির গড় কত ?

ii) $8.68 \times 5.7 = \underline{\hspace{2cm}}$

iii) সরল করো- $25 \div [5 + \{8 + (9\frac{5}{6} + 8\frac{2}{6})\}]$

iv) A & B স্তম্ভ দুটি মেলাও-

A	B
a) $\frac{7}{2}$	i) 5
b) $\frac{52}{25} \div \frac{52}{25}$	ii) 50.8
c) একদশমাংশ	iii) $5\frac{5}{2}$
d) 0.9×52	iv) $\frac{52}{5}$
e) $\frac{\frac{5}{5}}{\frac{5}{52}}$	v) $\frac{5}{50}$

For Rough Use

